

Corso Allena...Menti 2024/2025

Prof.ssa Oriana Pagliarone

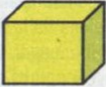







Incontro n.5

7 novembre 2024

Soluzione Enigma n.4 del 31 ottobre 2024


Gioco n.4

L'ALLENA CERVELLO

A	D	E	4
			
B	C	F	G
			

Nel riquadro qui sopra sono rappresentate otto figure di una serie di nove. Sapreste dire quale, tra le quattro figure numerate a destra, va messa al posto del punto interrogativo per completare logicamente la sequenza a serpentina?

Il parallelepipedo ruota di 90° sempre in senso antiorario (guarda la posizione della faccia colorata)



Soluzione: figura n.4

Il parallelepipedo ruota di 90° sempre in senso antiorario